

## المستوى : الرابعة ابتدائي 4AP ديسمبر 2019

### اختبار الفصل الأول في مادة التاريخ

الوضعية : أنا تلميذ من مدرسة « سليم » الابتدائية ، أدرس السنة الرابعة ، ولدت في 1 جوان 2010 م بمدينة باتنة ، مدينة جبال الأوراس التي انطلقت منها أول رصاصة في 1 نوفمبر 1954 م معلنة بداية الثورة الجزائرية المجيدة . ولقد احتفلت مدرستنا بذكرى 12 ربيع الأول ، فشاركتم بمرحبة ديني أعجب كل زملائي .

1- أملأ الجدول مستعينا بالسند أعلاه :

تاريخ علمي وطني	تاريخ علمي شخصي	تاريخ علمي عالمي
.....	.....	.....

2- لون الجواب الصحيح :

12 ربيع الأول يرتبط بحدث علمي هو :

مولد عيسى عليه السلام

مولد سيدنا محمد عليه السلام

مولد موسى عليه السلام

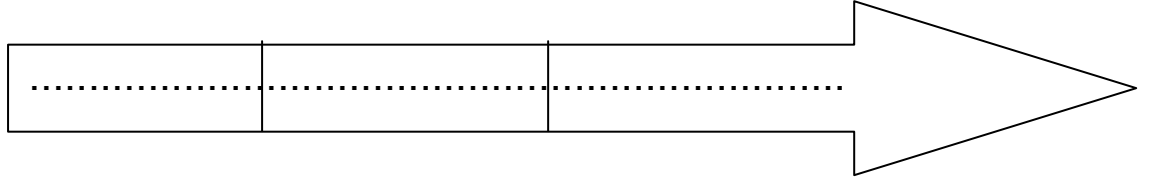
- ينتسب التاريخ الهجري لـ :

هجرة الرسول إلى المدينة

هجرة الرسول إلى الحبشة

مولد الرسول صلى الله عليه وسلم

- رتب العصور التاريخية على السلم الزمني الآتي موضعا بداية ونهاية كل عصر



- أذكر حدثا ميز العصر الوسيط :

.....

- أذكر حدثا ميز العصر الحديث :

.....

بالتوفيق

## تصحيح اختبار الفصل الاول في مادة التاريخ

### لسنة الرابعة

الوضعية : أنا تلميذ من مدرسة « سليم » الابتدائية ، أدرس السنة الرابعة ، ولدت في 1 جوان 2010 م بمدينة باتنة ، مدينة جبال الأوراس التي انطلقت منها أول رصاصة في 1 نوفمبر 1954 م معلنة بداية الثورة الجزائرية المجيدة . ولقد احتفلت مدرستنا بذكرى 12 ربيع الأول ، فشاركتم بمديح ديني أعجب كل زملائي .

1- أملأ الجدول مستعينا بالسند أعلاه : (3ن)

تاريخ معلمي وطني	تاريخ معلمي شخصي	تاريخ معلمي عالمي
...انطلاق الثورة الجزائرية...	...ميلادي في 1 جوان 2010....	....ميلاد رسولنا صلى الله عليه وسلم.....

2- لون الجواب الصحيح (2ن)

12 ربيع الأول يرتبط بحدث معلمي هو :

مولد موسى عليه السلام	مولد سيدنا محمد عليه السلام	مولد عيسى عليه السلام
-----------------------	-----------------------------	-----------------------

- ينتسب التاريخ الهجري لـ :

مولد الرسول صلى الله عليه وسلم	هجرة الرسول إلى الحبشة	هجرة الرسول إلى المدينة
--------------------------------	------------------------	-------------------------

- رتب العصور التاريخية على السلم الزمني الآتي موضحا بداية ونهاية كل عصر (3ن)

..العصر الحديث..	..العصر الوسيط..	..العصر القديم..
------------------	------------------	------------------

قيام الثورة الفرنسية فتح القسطنطينية سقوط روما ظهور الكتابة

1789م 1453م 476م 3200م

- أذكر حدثا ميز العصر الوسيط (1ن)

.....ظهور الاسلام.....

- أذكر حدثا ميز العصر الحديث : (1ن)

.....ظهور الثورة الصناعية.....

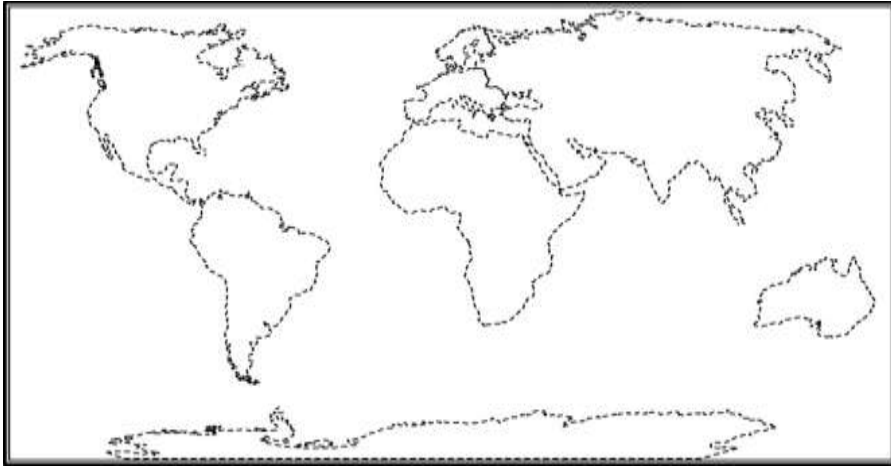
ديسمبر، 2019

المستوى :الرابعة ابتدائي 4AP

## اختبار الفصل الأول في مادة الجغرافيا

### • الوضعية :

شاهدت مع عائلتك شريطا وثائقيا عن جغرافية وطننا الحبيب.



فقلت أختك الصغرى : (هذه الصورة التي رسمتها على كراسك تشبه ما شاهدناه .

ماذا تمثل الصورة؟.....

لتقرأ هذا السند نحتاج إلى :

..... -..... -..... -..... -..... -.....

- عين على السند :

- اسم قارة - اسم بحر - اسم محيط

لون موقع الجزائر على السند باللون الأحمر .

\*اختر الجواب الصحيح :

تتشارك الجزائر مع اسبانيا في الانتماء

الأفريقي العربي المتوسطي

\*أجب بـ (صحيح ) أو (خطأ)

- مساحة اليابسة أكبر من مساحة المسطحات المائية (.....)

- تحتل الجزائر موقعا هاما في العالم (.....)

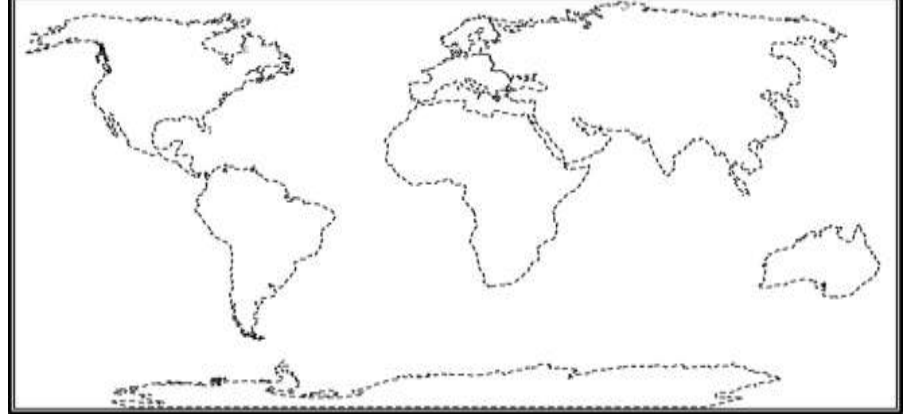
- الجزائر سابع الدول في العالم مساحة (.....)

## تصحيح اختبار الفصل الأول في الجغرافيا

### السنة الرابعة

#### الوضعية :

شاهدت مع عائلتك شريطا وثائقيا عن جغرافية وطننا الحبيب.



فقال أختك الصغرى : (هذه الصورة التي رسمتها على كراسك تشبه ما شاهدناه .

ماذا تمثل الصورة؟.....موقع القارات والمحيطات.....(1.5ن)

لتقرأ هذا السند نحتاج إلى : (3ن)

- ..العنوان.....- ...المفتاح.....- .....المقياس.....- .....الاتجاه.....

- عين على السند (3ن)

- اسم قارة - اسم بحر - اسم محيط

لون موقع الجزائر على السند باللون الأحمر. (0.5ن)

اختر الجواب الصحيح :

تتشارك الجزائر مع اسبانيا في الانتماء : (0.5ن)

الأفريقي العربي المتوسطي

أجب بـ (صحيح ) أو (خطأ) (1.5ن)

مساحة اليابسة أكبر من مساحة المسطحات المائية (.....خ.....)

تحتل الجزائر موقعا هاما في العالم (.....ص.....)

الجزائر سابع الدول في العالم مساحة (.....خ.....)

حي قعلول - برج البحري - الجزائر

## المستوى :الرابعة ابتدائي [4AP] ديسمبر، 2018

### اختبار الفصل الأول في مادة الجغرافيا

#### التمرين الأول:

\* أجب بصحيح (ص) أو خطأ (خ) (2ن).

- تقع الجزائر في شرق أوروبا (.....).
- المحيط هو مساحة واسعة من الماء المالح (.....).
- تعتبر الجزائر أصغر بلد في إفريقيا (.....).
- يمرّ خطّ غرينتش بمدينة وهران (.....).

#### التمرين الثاني:

• أضع كل كلمة في مكانها المناسب. (2.5ن)

(مالي، المغرب، نيجر، تونس، الصحراء الغربية، أكبر، موريتانيا، المتوسط،  
المغرب العربي، ليبيا)

تتوسط الجزائر بلدان.....وهي.....بلدانه، يحدها من  
الشرق.....و.....ومن الغرب.....و.....من  
الشمال البحر الأبيض.....، أما من الجنوب.....و.....

#### التمرين الثالث:

• أكمل: (2.5ن)

الخريطة هي: .....

أساسيات الخريطة: .....

.....

## التمرين الرابع:

- أذكر ثلاث قارات ومحيطات تعرفها (3ن)

المحيطات	القارات
- .....	- .....
- .....	- .....
- .....	- .....

## التصحيح النموذجي لمادة الجغرافيا الرابعة إبتدائي

### التمرين الأول: (2ن)

- تقع الجزائر في شرق أوروبا (خ).
- المحيط هو مساحة واسعة من الماء المالح (ص).
- تعتبر الجزائر أصغر بلد في إفريقيا (خ).
- يمرّ خطّ غرينتش بمدينة وهران (خ)

### التمرين الثاني: (2.5ن)

تتوسط الجزائر بلدان المغرب العربي وهي أكبر بلدانه، يحدها من الشرق تونس وليبيا ومن الغرب المغرب وموريطانيا والصحراء الغربية من الشمال البحر الأبيض المتوسط، أما من الجنوب مالي والنيجر.

### التمرين الثالث:

تعريف الخريطة (1ن)

أساسيات الخريطة (1.5ن)

### التمرين الرابع: (3ن)

أسماء ثلاث قارات

أسماء ثلاث محيطات



## المستوى :الرابعة ابتدائي [4AP] ديسمبر، 2018

### اختبار الفصل الأول في مادة التاريخ

#### التمرين الأول : أجب بـ (نعم) أو (لا) 2ن

- 1- يرتبط التقويم الميلادي بميلاد سيدنا محمد صلى الله عليه و سلم (.....).
- 2- التاريخ المعلمي هو وقوع أحداث مهمة تصبح مع مرّ الزمن بمثابة معالم في حياتنا (.....).
- 3- يعتبر ذكرى إندلاع الثورة التحريرية عيداً عالمياً (.....).
- 4- نحتفل بالمولد النبوي الشريف في 12 ربيع الثاني (.....).

#### التمرين الثاني :4ن

اربط كل تاريخ بما يناسبه:

- |                             |                                      |
|-----------------------------|--------------------------------------|
| - التاريخ المعلمي الشخصي    | - عيد العمال                         |
| - التاريخ المعلمي الوطني    | - الحصول على شهادة التعليم الابتدائي |
| - التاريخ المعلمي الإجتماعي | - المولد النبوي الشريف               |
| - التاريخ المعلمي العالمي   | - عيد الإستقلال                      |

#### التمرين الثالث :4ن

تحدثت رفقة زملائك عن المراحل التاريخية ، فطلب منك صديقك ريان أن تذكرها له :

- 1-.....
- 2-.....
- 3-.....
- 4-.....

## تصحيح اختبار الفصل الأول في مادة التاريخ السنة الرابعة إبتدائي

### التمرين الأول : أجب بـ (نعم) أو (لا) 2ن

- 1- يرتبط التقويم الميلادي بميلاد سيدنا محمد صلى الله عليه و سلم (لا)
- 2- التاريخ المعلمي هو وقوع أحداث مهمة تصبح مع مرّ الزمن بمثابة معالم في حياتنا (نعم)
- 3- يعتبر ذكرى إندلاع الثورة التحريرية عيداً عالمياً (لا)
- 4- نحتفل بالمولد النبوي الشريف في 12 ربيع الثاني (لا)

### التمرين الثاني : 4ن


اربط كل تاريخ بما يناسبه:

- |                             |   |                                    |
|-----------------------------|---|------------------------------------|
| - التاريخ المعلمي الشخصي    | → | عيد العمال                         |
| - التاريخ المعلمي الوطني    | → | الحصول على شهادة التعليم الإبتدائي |
| - التاريخ المعلمي الإجتماعي | → | المولد النبوي الشريف               |
| - التاريخ المعلمي العالمي   | → | عيد الإستقلال                      |

### التمرين الثالث : 4ن

تحدثت رفقة زملائك عن المراحل التاريخية ، فطلب منك صديقك ريان أن تذكرها له :

- 1مرحلة التاريخ القديم
- 2مرحلة التاريخ الوسيط
- 3مرحلة التاريخ الحديث
- 4- مرحلة التاريخ المعاصر



## المستوى: الرابع ابتدائي (4AP): ديسمبر 2017

### اختبار الفصل الأول في الجغرافيا

#### التمرين الأول: (4ن)

حدّد العِبَارَاتِ الْخَاطِئَةَ مِنَ الْعِبَارَاتِ التَّالِيَةِ وَصَحِّحِ الْخَطَأَ فِيهَا :

- طُولُ السَّاحِلِ الْجَزَائِرِيِّ 1400 كيلومترا. (.....)

.....

- خَطٌّ غَرِينَتَشْ هُوَ دَائِرَةٌ عَرْضٍ وَهَمِيَّة. (.....)

.....

- الْأَرْضُ هِيَ أَحَدُ كَوَاكِبِ الْمَجْمُوعَةِ الشَّمْسِيَّةِ. (.....)

.....

- تَقَعُ الْجَزَائِرُ شَمَالَ الْقَارَةِ الْإِفْرِيقِيَّةِ. (.....)

.....

- لَا تُوجَدُ هُنَاكَ رَوَابِطُ ( تَقَافِيَّة - لُغَوِيَّة - عَادَات - تَقَالِيد ) بَيْنَ الْبُلْدَانِ الْمَغَارِبَةِ (.....)

.....

#### التمرين الثاني: (2ن)

أُكْمِلُ الْفَرَاغَ بِمَا يُنَاسِبُ :

يَتَوَزَّعُ كُلٌّ مِنَ الْمَاءِ وَالْيَابِسَةِ بِنِسْبِ..... عَلَى سَطْحِ الْأَرْضِ، حَيْثُ

تَبْلُغُ نِسْبَةُ تَوْزِيعِ الْمَاءِ..... وَنِسْبَةُ تَوْزِيعِ الْيَابِسَةِ..... مِنْ سَطْحِ الْكُرَةِ  
الْأَرْضِيَّةِ الَّتِي تُقَدَّرُ مَسَاحَتُهَا الْإِجْمَالِيَّةُ بِ.....

### التمرين الثالث : (4ن)

الخريطة أداة جغرافية لا يستطيع الجغرافي الاستغناء عنها، و لا يتمكن مستعملها من قراءتها إلا بالرجوع إلى مكوناتها.

- أذكر مكونات الخريطة.

..... -

..... -

..... -

..... -

\_\_\_\_\_

## المستوى: الرابع ابتدائي (4AP): ديسمبر 2017

### تصحيح اختبار الفصل الأول في الجغرافيا

#### التمرين الأول: (4ن)

تحديد العبارات الخاطئة من العبارات التالية وتصحيح الخطأ فيها :

- طول الساحل الجزائري 1400 كيلومترا. (خ)

طول الساحل الجزائري 1200 كلم.

- خط غرينتش هو دائرة عرض وهمية. (خ)

خط غرينتش هو خط طول وهمي.

- الأرض هي أحد كواكب المجموعة الشمسية. (ص)

- تقع الجزائر شمال القارة الإفريقية. (ص)

- لا توجد هناك روابط ( ثقافية - لغوية - عادات - تقاليد ) بين البلدان المغاربية (خ)

#### التمرين الثاني: (2ن)

أكمل الفراغ بما يناسب :

يتوزع كل من الماء واليابسة بنسب متفاوتة على سطح الأرض، حيثُ

تبلغ نسبة توزيع الماء 71 بالمئة ونسبة توزيع اليابسة 21 بالمئة. من سطح الكرة الأرضية التي تُقدّر مساحتها الإجمالية بـ 510 مليون كلم مربع.

## التمرين الثالث : (4ن)

الخريطة أداة جغرافية لا يستطيع الجغرافي الاستغناء عنها، و لا يتمكن مستعملها من قراءتها إلا بالرجوع إلى مكوناتها.

- مكونات الخريطة هي:

- العنوان

- المفتاح

- المقياس

- الاتجاه



الجمهورية الجزائرية الديمقراطية الشعبية

وزارة التربية الوطنية

مؤسسة التربية و التعليم الخاصة **سليم**

ETABLISSEMENT PRIVE D'EDUCATION ET D'ENSEIGNEMENT **SALIM**



www.ets-salim.com



021 87 10 51



021 87 16 89



Hai Galloul - bordj el-bahri alger

رخصة فتح رقم 1088 بتاريخ 30 جانفي 2011

تحضيري - ابتدائي - متوسط - ثانوي

إعتماد رقم 67 بتاريخ 06 سبتمبر 2010

ديسمبر 2017

المستوى: الرابعة ابتدائي (4AP)

إختبار الفصل الأول في مادة التاريخ

التمرين الأول : ( 3 ن )

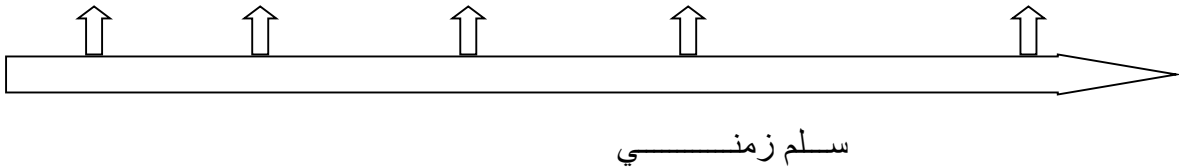
أربط بما يناسب

- يرتبط التقويم الميلادي
- يرتبط التقويم الهجري
- تبدأ السنة الهجرية في
- بالثورة الفرنسية
- 1 ربيع الأول
- بميلاد سيدنا عيسى عليه السلام
- 1 محرم
- هجرة الرسول ( ص )

التمرين الثاني : ( 2.5 ن )

رتب الأعياد الإسلامية التالية على السلم الزمني

عاشورة - عيد الأضحى - مولد الرسول (ص) - رأس السنة الهجرية - عيد الفطر



التمرين الثالث: ( 2.5 ن )

صنف التواريخ التالية في الجدول

- 1 نوفمبر ( عيد الثورة )
- 1 شوال ( عيد الفطر )
- عيد ميلادك
- عيد العمال ( 1 ماي )

تاريخ عالمي	تاريخ وطني	تاريخ اجتماعي	تاريخ شخصي

الصفحة 2/1

حي قعلول سرج البحري - الجزائر

Web site : [www.ets-salim.com](http://www.ets-salim.com) / Fax 023.94.83.37 : الفاكس : Tel : 0560.94.88.02/05.60.91.22.41/05.60.94.88.05

التمرين الرابع: (2 ن)  
حوط الإجابة الصحيحة

1 - ماسينيسا من أشهر ملوك :

- 2 - عاصمة نوميديا هي :  
- القيروان - سيرتا - قرطاجة  
- بيزنطة - روما - نوميديا

بالتوفيق



## اختبار مادة التاريخ

### التمرين الأول : ( 3 ن )

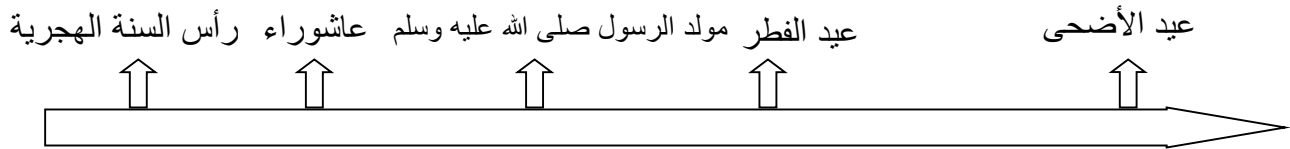
أربط بما يناسب

- |                          |                                 |
|--------------------------|---------------------------------|
| - يرتبط التقويم الميلادي | - بالثورة الفرنسية              |
| - يرتبط التقويم الهجري   | - 1 ربيع الأول                  |
| - تبدأ السنة الهجرية في  | - بميلاد سيدنا عيسى عليه السلام |
|                          | - 1 محرم                        |
|                          | - هجرة الرسول ( ص )             |

### التمرين الثاني : ( 2.5 ن )

رتب الأعياد الإسلامية التالية على السلم الزمني

عاشورة - عيد الأضحى - مولد الرسول (ص) - رأس السنة الهجرية - عيد الفطر



سلم زمني

### التمرين الثالث: ( 2.5 ن )

صنف التواريخ التالية في الجدول

- |                        |                           |
|------------------------|---------------------------|
| - عيد ميلادك           | - 1 نوفمبر ( عيد الثورة ) |
| - عيد العمال ( 1 ماي ) | - 1 شوال ( عيد الفطر )    |

تاريخ شخصي	تاريخ اجتماعي	تاريخ وطني	تاريخ عالمي
عيد ميلادك		1 نوفمبر ( عيد الثورة )	عيد العمال (1 ماي)

### التمرين الرابع: ( 2 ن )

حوط الإجابة الصحيحة

1 - ماسينيسا من أشهر ملوك :

- بيزنطة - روما


2 - عاصمة نوميديا هي :

- القيروان.

- قرطاجة .

نوميديا

سيرتا



## المستوى: الرابع ابتدائي (4AP): ديسمبر 2017

### اختبار الفصل الأول في التاريخ

#### التمرين الأول: (3ن)

حَدِّدِ الْعِبَارَاتِ الْخَاطِئَةَ مِنَ الْعِبَارَاتِ النَّالِيَةِ وَصَحِّحِ الْخَطَأَ فِيهَا :

- يَرْتَبِطُ التَّقْوِيمُ الْمِيلَادِي بِمِيلَادِ سَيِّدِنَا مُحَمَّدٍ عَلَيْهِ الصَّلَاةُ وَالسَّلَامُ. (.....)

.....

- بَدَأَ الْعَمَلُ بِالتَّقْوِيمِ الْهَجْرِيِّ بَعْدَ 17 عَامًا مِنَ الْهَجْرَةِ النَّبَوِيَّةِ. (.....)

.....

- السَّنَةُ الْهَجْرِيَّةُ الْأُولَى تُوَافِقُ عَامَ 622 مِيلَادِيَّةً. (.....)

.....

- يَوْمُ اسْتِقْلَالِ الْجَزَائِرِ يُمَثِّلُ تَارِيخًا مَعْلَمِيًّا عَالَمِيًّا. (.....)

.....

#### التمرين الثاني (2.5ن)

أُكْمِلُ الْفَرَاغَ بِمَا يُنَاسِبُ :

تَبْدَأُ مَرَحَلَةُ التَّارِيخِ الْقَدِيمِ مِنْ ..... حَوَالِي ..... إِلَى .....

عَلَى يَدِ ..... عَامَ .....

## التمرين الثالث : (2ن)

اربط كل تاريخ معلّم بالحدث الذي يخصّه :

- أحدات تخص فئة معينة من المجتمع
- أحدات تخص أشخاصا معينين
- أحدات تخص كل شعوب العالم
- أحدات تخص شعب الوطن الواحد
- التاريخ المعلّم الشخصي
- التاريخ المعلّم الاجتماعي
- التاريخ المعلّم العالمي
- التاريخ المعلّم الوطني

## التمرين الرابع : (2.5ن)

- صنّف الأحدات الآتية وفق الجدول المعطى :

اليوم العالمي للبيئة المصادف لـ 5 جوان – اليوم العالمي للمعاقين المصادف لـ 3 ديسمبر من كل سنة. – ثورة التحرير 1 نوفمبر 1954 – يوم الاستقلال 5 جويلية 1962 – عيد العمال 1 ماي.

التاريخ المعلّم الوطني	التاريخ المعلّم العالمي
.....	.....
.....	.....
.....	.....

## المستوى: الرابع ابتدائي (4AP): ديسمبر 2017

### تصحيح اختبار الفصل الأول في التاريخ

#### التمرين الأول: (3ن)

تَحْدِيدِ الْعِبَارَاتِ الْخَاطِئَةِ مِنَ الْعِبَارَاتِ التَّالِيَةِ:

- يَرْتَبِطُ التَّقْوِيمُ الْمِيلَادِي بِمِيلَادِ سَيِّدِنَا مُحَمَّدٍ عَلَيْهِ الصَّلَاةُ وَالسَّلَامُ. (خطأ)

يرتبط التقويم الميلادي بميلاد عيسى عليه السلام.

- بَدَأَ الْعَمَلُ بِالتَّقْوِيمِ الْهَجْرِيِّ بَعْدَ 17 عَامًا مِنَ الْهَجْرَةِ النَّبَوِيَّةِ. (ص)

- السَّنَةُ الْهَجْرِيَّةُ الْأُولَى تُوَافِقُ عَامَ 622 مِيلَادِيَّة. (ص)

- يَوْمُ اسْتِقْلَالِ الْجَزَائِرِ يُمَثِّلُ تَارِيخًا مَعْلَمِيًّا عَالَمِيًّا. (خ)

يَوْمُ اسْتِقْلَالِ الْجَزَائِرِ يُمَثِّلُ تَارِيخًا مَعْلَمِيًّا وَطَنِيًّا.

#### التمرين الثاني (2.5ن)

أُكْمِلُ الْفَرَاغَ بِمَا يُنَاسِبُ :

نَبْدَأُ مَرَحَلَةَ التَّارِيخِ الْقَدِيمِ مِنْ اكْتِشَافِ الْكِتَابَةِ حَوَالِي 3200 ق.م إِلَى سَقُوطِ رُومَا عَلَى يَدِ الْقَبَائِلِ الْجَرْمَانِيَّةِ عَامَ 476م.

## التمرين الثالث : (2ن)

ربط كل تاريخ معلّم بالحدث الذي يخصّه :

- أحداث تخص فئة معينة من المجتمع - التاريخ المعلّم الشخصي  
- أحداث تخص أشخاصاً معينين - التاريخ المعلّم الاجتماعي  
- أحداث تخص كل شعوب العالم - التاريخ المعلّم العالمي  
- أحداث تخص شعب الوطن الواحد - التاريخ المعلّم الوطني

## التمرين الرابع : (2.5ن)

- تصنيف الأحداث الآتية وفق الجدول المعطى :

اليوم العالمي للبيئة المصادف لـ 5 جوان - اليوم العالمي للمعاقين المصادف لـ 3 ديسمبر من كل سنة. - ثورة التحرير 1 نوفمبر 1954 - يوم الاستقلال 5 جويلية 1962 - عيد العمال 1 ماي.

التاريخ المعلّم الوطني	التاريخ المعلّم العالمي
ثورة التحرير 1 نوفمبر 1954 يوم الاستقلال 5 جويلية 1962	اليوم العالمي للبيئة المصادف لـ 5 جوان اليوم العالمي للمعاقين المصادف لـ 3 ديسمبر من كل سنة. عيد العمال 1 ماي.

حي قعلول سبرج البحري- الجزائر

Web site : [www.ets-salim.com](http://www.ets-salim.com) /Fax023.94.83.37 : الفاكس : Tel : 0560.94.88.02/05.60.91.22.41/05.60.94.88.05 : ☎



ديسمبر: 2015

المستوى: الرابعة ابتدائي (4AP)

## اختبار الفصل الأول في مادة التاريخ

### السؤال الاول : (1.5ن)

- المكونات الأساسية للهوية الوطنية هي :

.....-

.....-

.....-

### السؤال الثاني (3.5 ن)

أ/-قسم علماء التاريخ و الآثار عصور ما قبل التاريخ إلى ثلاثة عصور هي :

1-.....2-.....3-.....

ب/ قسّموا العصور التاريخية إلى أربعة عصور هي :

1-.....2-.....

3-.....4-.....

## السؤال الثالث (1.5 ن )

إملا الفراغ بما يناسب :

- الجزائر جزء .....الذي يتكون من قارة .....وقارة .....  
وقارة.....

## السؤال الرابع (3.5ن):

أ/أذكر أبرز مخلفات إنسان العصر الحجري :01.5 ن

- 1-.....
- 2-.....
- 3-.....

ب/كيف طوّر إنسان العصر الحجري مسكنه ؟ 02 ن

.....  
.....  
.....



## التصحيح النموذجي لإختبار الفصل الأول فى مادة التاريخ

### السنة الرابعة

#### التمرين الأول : 01.5 ن

المكونات الأساسية للهوية الوطنية هي :

- 1- الاسلام.
- 2- العروبة.
- 3- الأمازيغية.

#### التمرين الثانى: 03.5 ن

أ - قسم علماء التاريخ و الآثار عصور ما قبل التاريخ إلى 3 عصور هي :

- 1- العصر الحجري القديم.
  - 2- العصر الحجري الحديث .
  - 3- فجر التاريخ .
- ب - و قسموا العصور التاريخية إلى 4 عصور هي :
- 1-العصر القديم.
  - 2-العصر الوسيط .
  - 3-العصر الحديث.
  - 4-العصر المعاصر.

#### التمرين الثالث : ملء الفراغ بما يناسبه : 01.5 ن

الجزائر جزء من العالم الذي يتكون من قارة أفريقيا

و قارة أوروبا و قارة آسيا و قارة أمريكا

و قارة أوقيانوسيا " استراليا " .

#### التمرين الرابع : 03 ن

أ- ذكر أبرز مخلفات انسان العصر الحجري :01.5 ن

- 1- بقايا هياكل عظمية.
- 2- أسلحة .

### 3- أدوات حجرية و عظمية.

ب - كيف طور انسان العصر الحجري مسكنه : 02 ن

- سكن الكهوف و المغارات الطبيعية .
- أنشأ الأكواخ من جلود الحيوانات و أغصان الأشجار.
- بنى دورا بسيطة من الطين و الحجارة .