

الخطة الاثرائية لرياضيات KG2



ترم 2



توجيه رياض الاطفال

ادارة السادات التعليمية .. A.S.H

الخطة الاترائية للمستوى الثانى (رياضيات) ترم ثان

المحور	الفصل	النشاط الاترائى	ملاحظات
كيف يعمل العالم	الاول	<ul style="list-style-type: none"> • ارسم مثلث ثم اكتب عدد الزوايا • عدد زوايا المثلث ، عدد اضلاع ، عدد الرؤوس • اكتب العدد الترتيبي للطفل الذي تحته خط • اكمل بزياده ١٠ • اكتب اسم الشكل • (مستطيل ، مثلث ، دائره مربع) • صل الاقصر والاطول • اكمل الدوده بزياده ١ 	
كيف يعمل العالم	التالى	<ul style="list-style-type: none"> • كتب اسم الشكل • (مكعب ، اسطوانه ، مخروط ، كره) • اطرح • اجمع • اكمل بزياده ١٠ • اكمل بزياده ١ • اكتب الاعداد المفقوده اكمل خط الاعداد 	


الخطة الاثرانية للمستوى الثانى (رياضيات) ترم ثان

المحور	الفصل	النشاط الاثرانى	ملاحظات
كيف يعمل العالم	الاول	<ul style="list-style-type: none"> • صل (١٠ جنيه ، ١ جنيه ، ٥ جنيه ، ٢٠ جنيه) بالصوره المناسبه • اكمل بزياده ١٠ • اكمل بزياده ١ • اجمع • اطرح • ضع اكبر او اصغر او يساوي 	
التواصل	الثانى	<ul style="list-style-type: none"> • اقرا ثم اجب (مسائل اللفظيه) • عد بزياده ١٠ • اكتب عدد النقود التي امامك • عد بزياده ٥ • عد واكتب من ١ الى ١٠٠ احتفالا بيوم المائه 	

الخطة الاثرانية للمستوى الثانى (رياضيات) ترم ثان

المحور	الفصل	النشاط الاثرانى	ملاحظات
التواصل	الاول	<ul style="list-style-type: none"> • كون العدد ١٠ • اكتب عدد النقود التي امامك • اكمل بزياده ١ • اطرح • اجمع 	
التواصل	الثانى	<ul style="list-style-type: none"> • ضع دائره حول الاخف • ضع دائره حول الاطول • صنف الاشكال حسب اللون • رتب الاوزان من الاثقل الى الاخف • رتب الاطوال من الاطول الى الاقصر 	

• ارسم مثلث ثم اكتب عدد الزوايا



عدد زوايا المثلث =

عدد اضلاع المثلث =

عدد رؤوس المثلث =

• اكتب العد الترتيبي للطفل الذي تحته خط



.....

.....



• أكمل بزيادة ١٠

← ٢١

← ٢٥

← ٢٠

← ٢٣


← ٢٩

← ٢٦

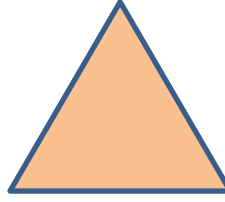
• اكتب اسم الشكل




.....



.....



.....



.....


• صل



أقصر

أطول

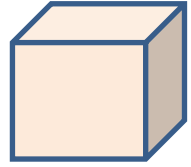



• أكمل الدودة بزيادة واحد



الفصل الثاني

المحور الثالث

• اكتب اسم الشكل



• ا طرح

$$= 4 - 8$$

$$= 1 - 5$$

$$= 2 - 4$$

$$= 3 - 7$$

$$= 1 - 3$$

$$= 3 - 6$$

$$= 5 - 9$$

$$= 2 - 3$$

• اجمع

$$= 3 + 7$$

$$= 1 + 4$$

$$= 3 + 6$$

$$= 4 + 4$$

$$= 1 + 5$$

$$= 2 + 3$$

• اكمل بزيادة ١٠

← ٣١

← ٣٥

← ٣٠

← ٣٣

← ٣٩

← ٣٦

• اكمل بزيادة ١

← ١٦

← ١٥


← ١٩

← ١٧

← ١٣

← ١١

• اكتب الاعداد المفقودة



• اكمل خط الاعداد



المحور الثالث

الفصل الثالث

• صل

٥ جنيه



١٠ جنيه



١ جنيه



٢٠ جنيه



• اكمل بزيادة ١٠

٤٥ ←

٤٨ ←

٤٧ ←

٤١ ←

٤٣ ←

٤٤ ←

• اكمل بزيادة ١

٢٣ ←

٢٧ ←

٢٦ ←

٢١ ←


٢٤ ←

٢٨ ←

• اجمع



• اطرح



• ضع اكبر او اصغر او يساوى



• اقرأ ثم اجب

(لقد خبزت ١١ قطعة من البسكويت واكلت ٦ قطع ، كم قطعة تبقت ؟)

عدد القطع المتبقية = - = قطعة

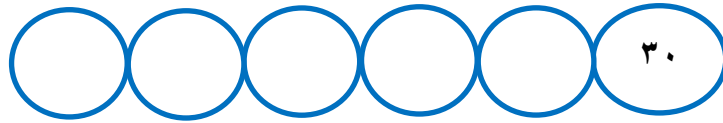


(أعطاني أبي ٤ جنيهاً ثم أعطتني أمي ٤ جنيهاً ، فكم جنيهاً معي ؟)

عدد الجنيهاً = + = جنيهاً




• عدد بزيادة ١٠



• اكتب عدد النقود



• عدد بزيادة ٥



• عدد واكتب من ١ ← ١٠٠ احتفالاً بيوم المائه

									١

• كون العدد ١٠

$$10 = \square + \square$$

$$10 = \square + \square$$

$$10 = \square + \square$$

$$10 = \square + \square$$

• اكتب عدد النقود





• اكمل بزيادة ١



• اطرح

$$= ٤ - ٧$$

$$= ١ - ٩$$

$$= ١ - ٨$$

$$= ٤ - ٦$$

$$= ٢ - ٥$$

$$= ٥ - ١٠$$

$$= ١ - ٦$$

$$= ٢ - ٣$$

$$= ١ - ٧$$

$$= ٤ - ٩$$

• اجمع

$$= ٣ + ٧$$

$$= ٤ + ٤$$

$$= ١ + ٤$$

$$= ١ + ٥$$

$$= ٣ + ٦$$

$$= ٢ + ٣$$

$$= ٣ + ٨$$

$$= ٤ + ٦$$

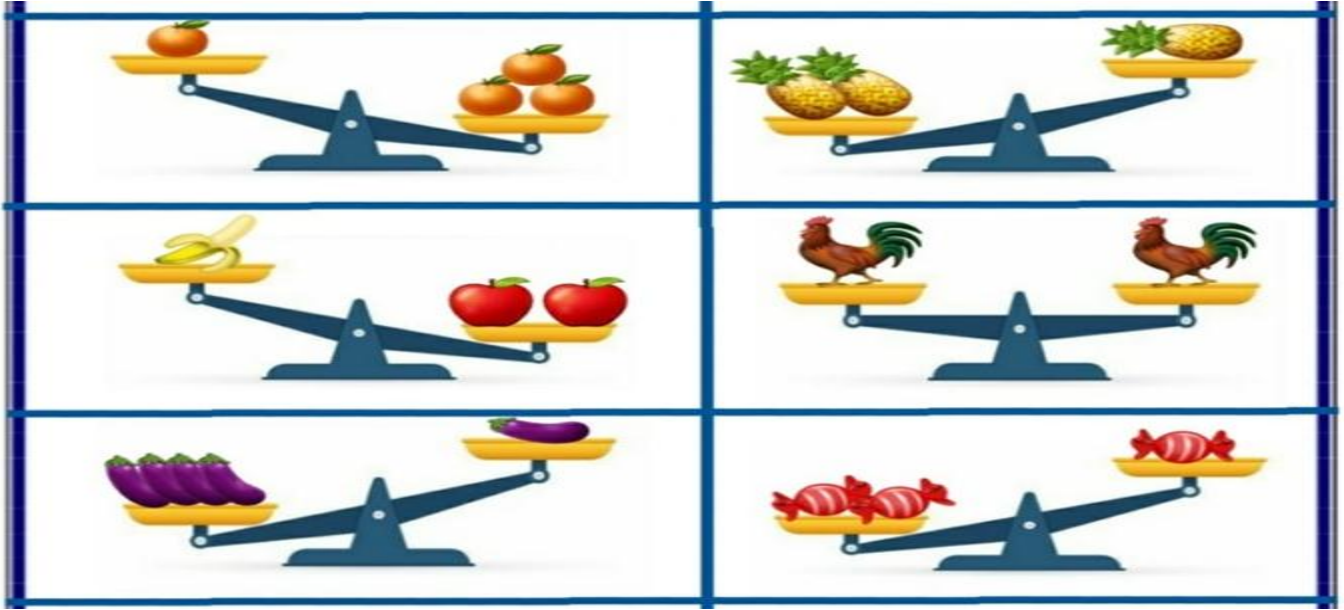
$$= ١ + ٩$$

$$= ١ + ٧$$


الفصل الثالث

المحور الرابع

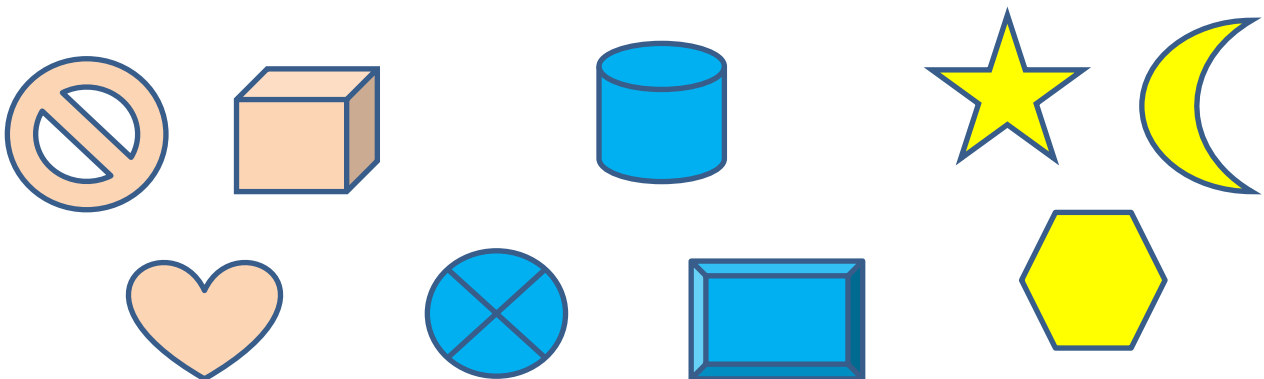
• ضع دائرة حول الاخف



• ضع دائرة حول الاطول



• صنف الاشكال حسب اللون



• رتب الاوزان من الاثقل الى الاخف



• رتب الاطوال من الاطول الى الاقصر

